


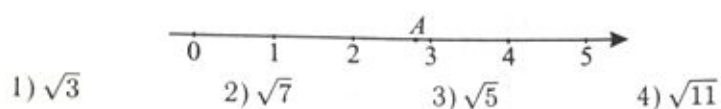
Тест

Вариант 1

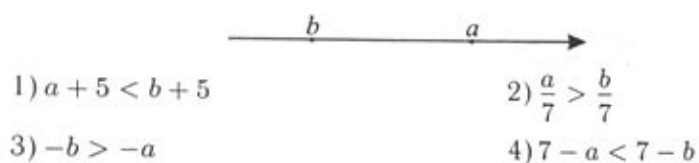
1. Известно, что $a = \frac{3}{5}$. Одна из точек, отмеченных на координатной прямой, соответствует числу $\frac{1}{a}$. Укажите эту точку.



2. Какое из чисел отмечено на координатной прямой точкой A?



3. На координатной прямой отмечены числа a и b . Какое из следующих неравенств неверно?



4. Одна из точек, отмеченных на координатной прямой, соответствует числу $\sqrt{10}$. Какая это точка?

